



Nombre: _____

Fecha: _____



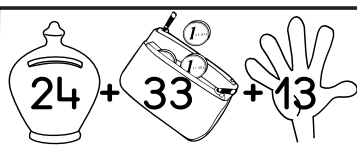
SUMAS Y RESTAS ^{ABN}

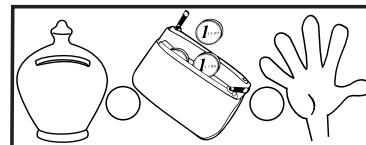

Resuelve estos problemas. Te hemos puesto una ayuda de un dibujo para que te sea más fácil.

Javi tiene veinticuatro euros en su hucha, treinta y tres en el monedero y trece en la mano. ¿Cuánto dinero tiene en total?





Mi hermana tiene treinta y un euros en su hucha y doce en su monedero. Si se gasta veintidos euros. ¿Cuánto dinero le quedará?



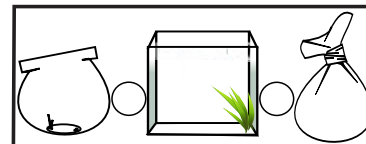


En la pecera redonda tengo treinta y cuatro peces y en la pecera cuadrada dieciocho peces. Si regalo veintidos peces. ¿Cuántos peces me quedan?

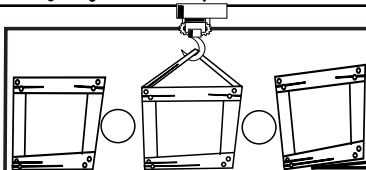




Los veintidos peces se los he regalado a Luis que tenía trece en la pecera redonda y catorce en la cuadrada. ¿Cuántos peces tiene ahora?



En una fábrica hay cuarenta y nueve juguetes en cajas. Se llevan diecisiete para vender y quince para el almacén. ¿Cuántos juguetes quedan?



En estas caja hay doce videoconsolas veinticinco juegos y treinta y tres mandos de videojuegos. ¿Cuántos objetos hay entre todas las cajas?

